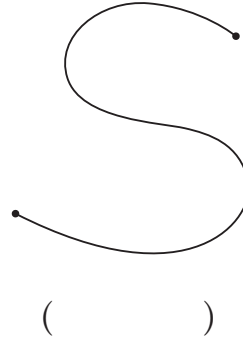




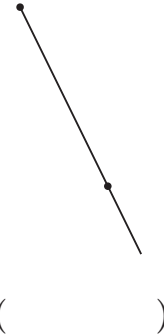
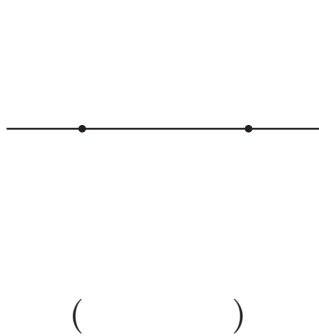
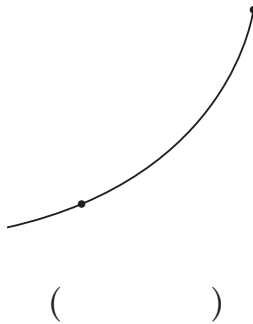
# 선의 종류에는 어떤 것이 있을까요

공부한 날 월 일


1 선분을 찾아 ○표 하세요.



2 반직선을 찾아 ○표 하세요.



3 직선을 찾아 ○표 하세요.




4 도형의 이름을 써 보세요.








5 선분, 반직선, 직선을 그어 보세요.



- 선분 ㄱㄴ을 그어 보세요.
- 반직선 ㄷㄹ을 그어 보세요.
- 직선 ㅁㅂ을 그어 보세요.

6 슬기와 지혜가 이야기할 내용을 보기에서 찾아 써 보세요.

보기

- 한 점에서 시작하여 한쪽으로 끝없이 늘인 곧은 선
- 한 점에서 시작하여 한쪽으로 끝없이 늘인 굽은 선
- 선분을 양쪽으로 끝없이 늘인 곧은 선
- 선분을 양쪽으로 끝없이 늘인 굽은 선

수일



선분은 두 점을 곧게 이은 선이고, 직선의 일부뿐이야.



슬기

반직선은 \_\_\_\_\_  
 \_\_\_\_\_  
 \_\_\_\_\_ 이야.

직선은 \_\_\_\_\_  
 \_\_\_\_\_  
 \_\_\_\_\_ 이야.



지혜