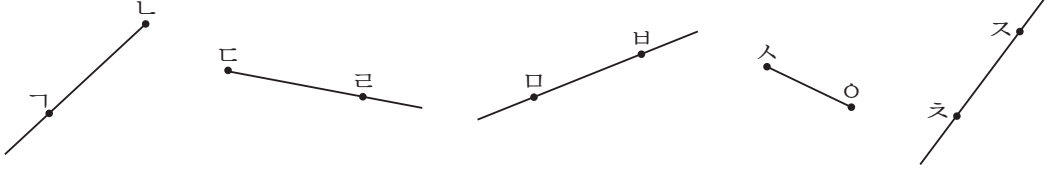




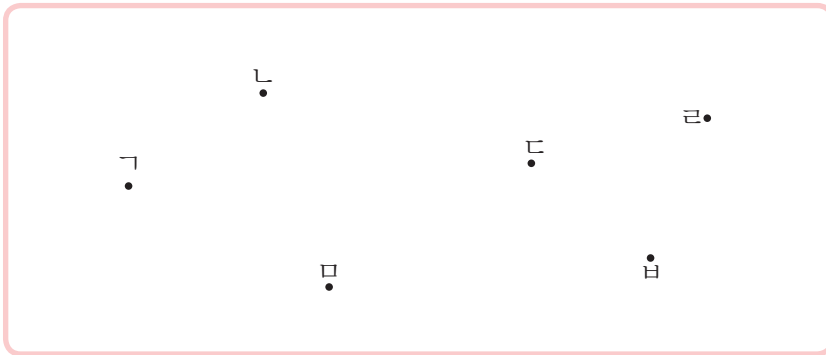
# 얼마나 알고 있나요

1 도형을 보고 물음에 답하세요.



- 선분, 반직선, 직선을 찾아 이름을 써 보세요.
- 선분, 반직선, 직선의 서로 다른 점을 말해 보세요.

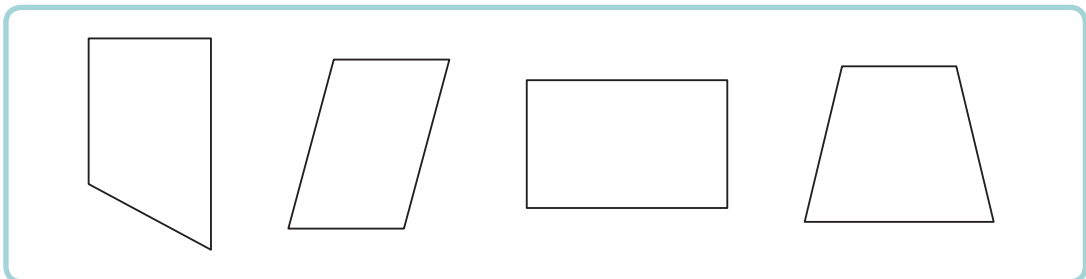
2 각을 2개 그리고 써 보세요.



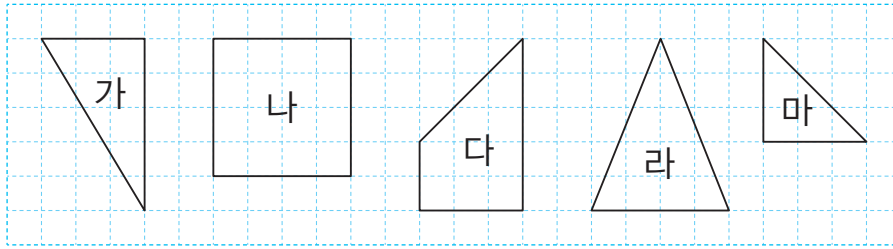
각

각

3 도형을 보고 직각을 모두 찾아 □ 로 표시해 보세요.

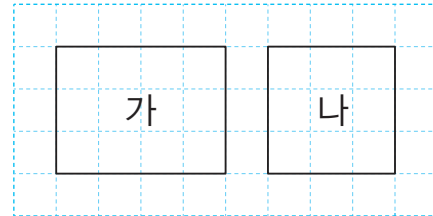


#### 4 도형을 보고 물음에 답하세요.



- 삼각형을 모두 찾아 기호를 써 보세요.
- 직각삼각형을 모두 찾아 기호를 써 보세요.

#### 5 두 사각형을 보고 대화를 완성해 보세요.




두 사각형 가와 나는 네 각이 모두 직각인 사각형이야. 그러므로  (이)야.

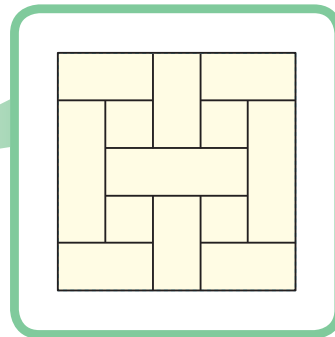


사각형 나는 네 각이 모두 직각이면서 네 변의 길이도 모두 같아. 그러므로 사각형 나는  (이)기도 해.

#### 6 한옥의 문에는 빛이 들어오는 창문이 있습니다. 창문 하나에서 찾을 수 있는 직사각형의 수를 써 보세요.



한옥의 문



창문

개