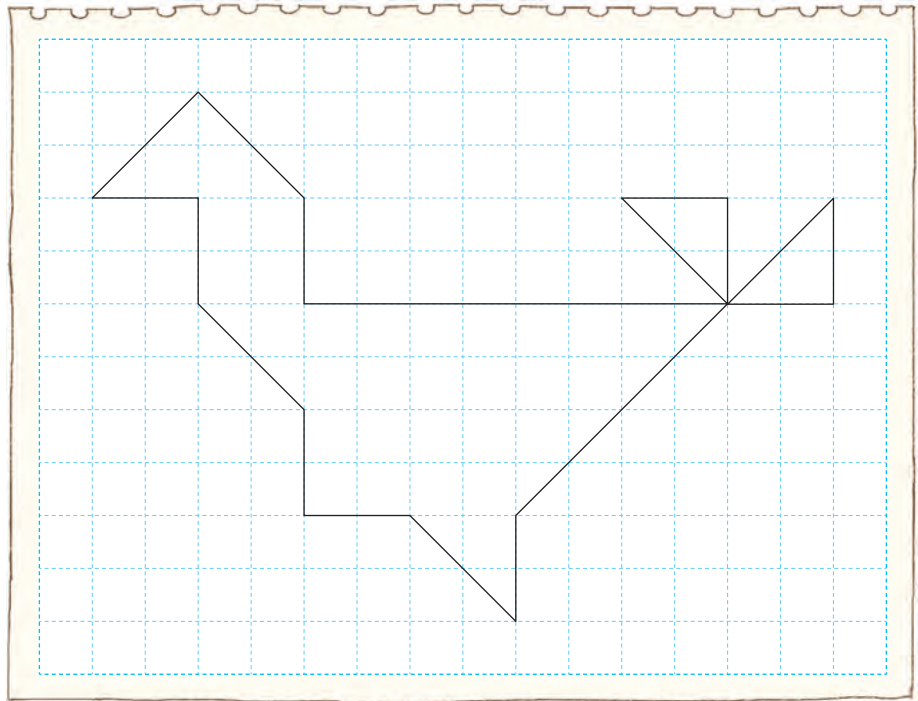
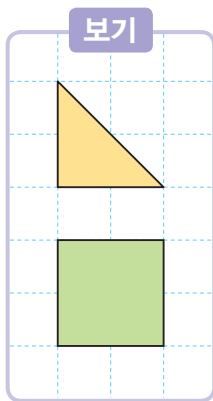




그림 속에 숨은 도형의 수를 찾아볼까요

1 지혜는 **보기**의 모양 조각을 사용하여 동물 모양을 만들었습니다. 이 모양을 만드는 데 정사각형 모양 조각을 6개 사용했다면 직각삼각형 모양 조각은 몇 개 사용했는지 알아보시다. **준비물 1**

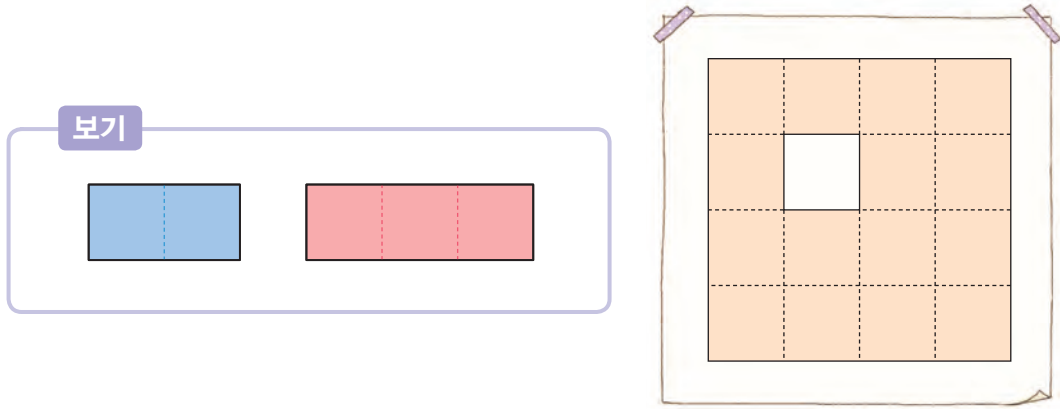


- 구하려고 하는 것은 무엇인가요?
- 어떤 방법으로 문제를 해결하면 좋을까요?
- 생각한 방법으로 문제를 해결해 보세요.
- 바르게 구했는지 확인해 보세요.
- 문제를 해결한 방법을 친구들에게 설명해 보세요.



2

보기의 직사각형 모양 조각을 사용하여 색칠된 부분을 겹치지 않게 덮어 보고, 조각을 각각 몇 개 사용했는지 알아봅시다. **준비물 1**



방법 1

개

개

방법 2

개

개

친구들이 만든 모양과
비교해 보세요.



2
평면도형