



각을 알아볼까요

- 수일이가 그린 도형을 알아봅시다.

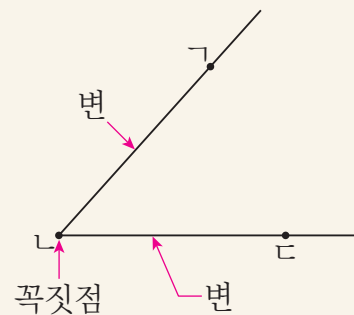


- 점선을 따라 선을 그어 보세요.
- 그린 도형의 같은 점을 찾아보세요.

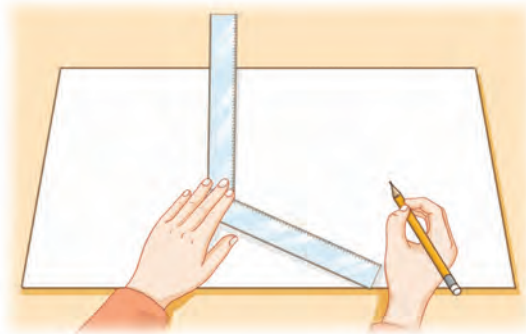
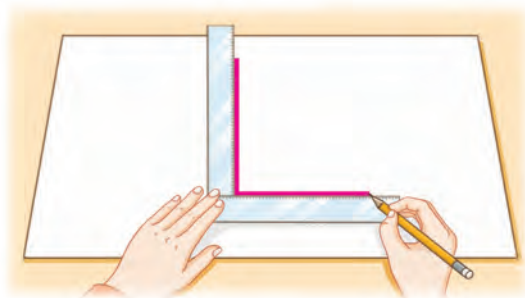
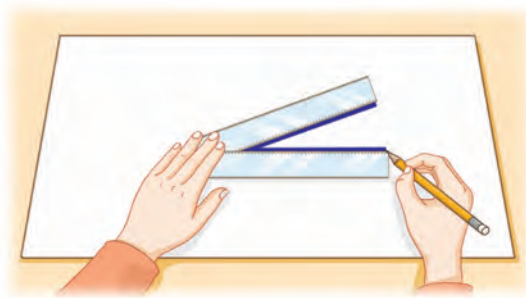
한 점에서 그은 두 반직선으로 이루어진 도형을 **각**이라고 합니다.

그림의 각을 **각 기디** 또는 **각 디기**이라 하고, 이때 점 디를 각의 **꼭짓점**이라고 합니다.

반직선 기과 반직선 디를 각의 **변**이라 하고, 이 변을 **변 기**과 **변 디**이라고 합니다.



여러 가지 각을 만들어 보고 본을 떠 봅시다.



본을 뜬 각의 모양을
비교해 보세요.

세 점을 이용하여 꼭짓점이 서로 다른 각을 그려 보고, 각의 꼭짓점과 변을 써
봅시다.

각 ㄱㄴㄷ	각 ㄱㄷㄴ	각 ㄷㄱㄴ

각의 꼭짓점

각의 변
