



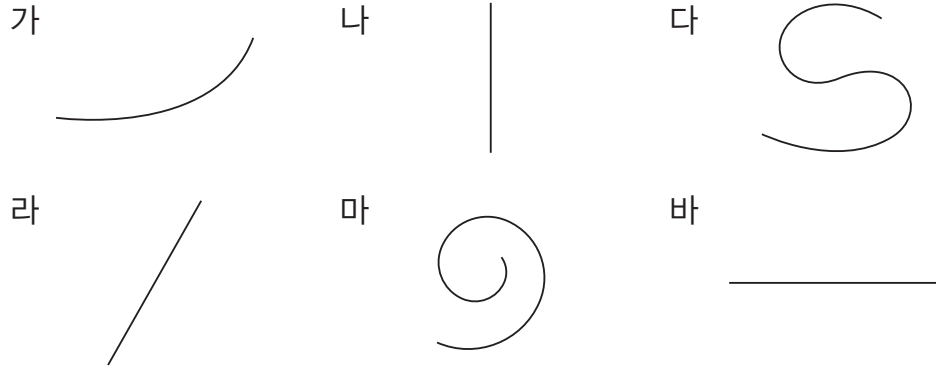
선의 종류에는 어떤 것이 있을까요

- 두 친구가 미끄럼틀을 타고 내려오는 길의 모양을 알아봅시다.



- 타고 내려오는 길을 따라 선을 그어 보세요.
- 선의 모양이 어떻게 다른지 이야기해 보세요.

● 끝은 선과 굽은 선으로 분류해 봅시다.




● 선을 분류해 보세요.

곧은 선	굽은 선


● 곧은 선이 있는 물건을 찾아 말해 보세요.

● 점 ㄱ과 점 ㄴ을 곧게 이어 봅시다.




두 점을 곧게 이은 선을 **선분**이라고 합니다.
 점 ㄱ과 점 ㄴ을 이은 선분을 **선분 ㄱㄴ** 또는 **선분 ㄴㄱ**이라고 합니다.




 점 ㄱ에서 시작하여 점 ㄴ을 지나 오른쪽으로 길게 늘인 곧은 선을 그어 봅시다.



- 점 ㄱ에서 시작하여 점 ㄴ을 지나 오른쪽으로 끝없이 늘인 곧은 선을 생각해 보세요.
- 선분 ㄱㄴ과 무엇이 다른지 이야기해 보세요.




점 ㄴ에서 시작하여 점 ㄱ을 지나 왼쪽으로 끝없이 늘인 곧은 선도 있지 않을까요?




한 점에서 시작하여 한쪽으로 끝없이 늘인 곧은 선을 **반직선**이라고 합니다.

점 ㄱ에서 시작하여 점 ㄴ을 지나는 반직선을 **반직선 ㄱㄴ**이라고 합니다.



점 ㄴ에서 시작하여 점 ㄱ을 지나는 반직선을 **반직선 ㄴㄱ**이라고 합니다.





선분을 양쪽으로 길게 늘인 곧은 선을 알아봅시다.



- 선분 ㄱㄴ과 무엇이 다른지 이야기해 보세요.
- 반직선 ㄱㄴ, 반직선 ㄴㄱ과 무엇이 다른지 이야기해 보세요.



선분을 양쪽으로 끝없이 늘인 곧은 선을 **직선**이라고 합니다.

점 ㄱ과 점 ㄴ을 지나는 직선을 **직선 ㄱㄴ** 또는 **직선 ㄴㄱ**이라고 합니다.



선분, 반직선, 직선을 찾아 이름을 쓰고 서로 다른 점을 설명해 봅시다.

