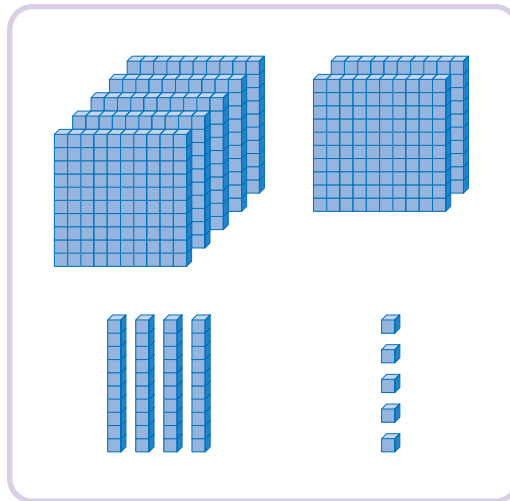


# 덧셈을 해 볼까요(2)

공부한 날 월 일

1 수일이가 말하는 수를 구해 보세요.



수 모형이 나타내는  
수보다 136 더 큰 수를  
구해 보세요.



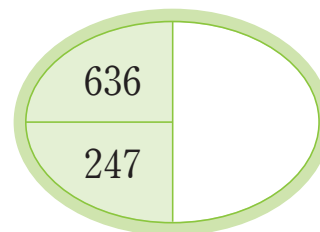
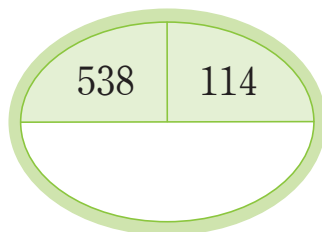
( )

2 계산해 보세요.

$$\begin{array}{r} 158 \\ + 237 \\ \hline \end{array}$$

$$\begin{array}{r} 419 \\ + 365 \\ \hline \end{array}$$

3 두 수의 합을 구해 보세요.



4 도영이네 농장에서 작년에는 멜론을 459개 수확했고, 올해에는 작년보다 125개 더 많이 수확했습니다. 도영이네 농장에서 올해 수확한 멜론은 몇 개일까요?

( )개

1

덧셈과 뺄셈

5 잘못 계산한 곳을 찾아 이유를 쓰고, 바르게 계산해 보세요.

$$\begin{array}{r} 427 \\ + 338 \\ \hline 755 \end{array}$$



$$\begin{array}{r} 427 \\ + 338 \\ \hline \end{array}$$

이유

---



---

6  안에 알맞은 수를 써넣으세요.

$$\begin{array}{r} \square 7 5 \\ + 2 \square \square \\ \hline 9 9 3 \end{array}$$