



덧셈을 해 볼까요(3)

- 기차에 모두 몇 명이 탔는지 알아보시다.



- 기차에 모두 몇 명이 탔는지 어렵해 보세요.
- 어떻게 구하면 되는지 식을 써 보세요.


- 575+147을 어떻게 계산하는지 알아보시다.

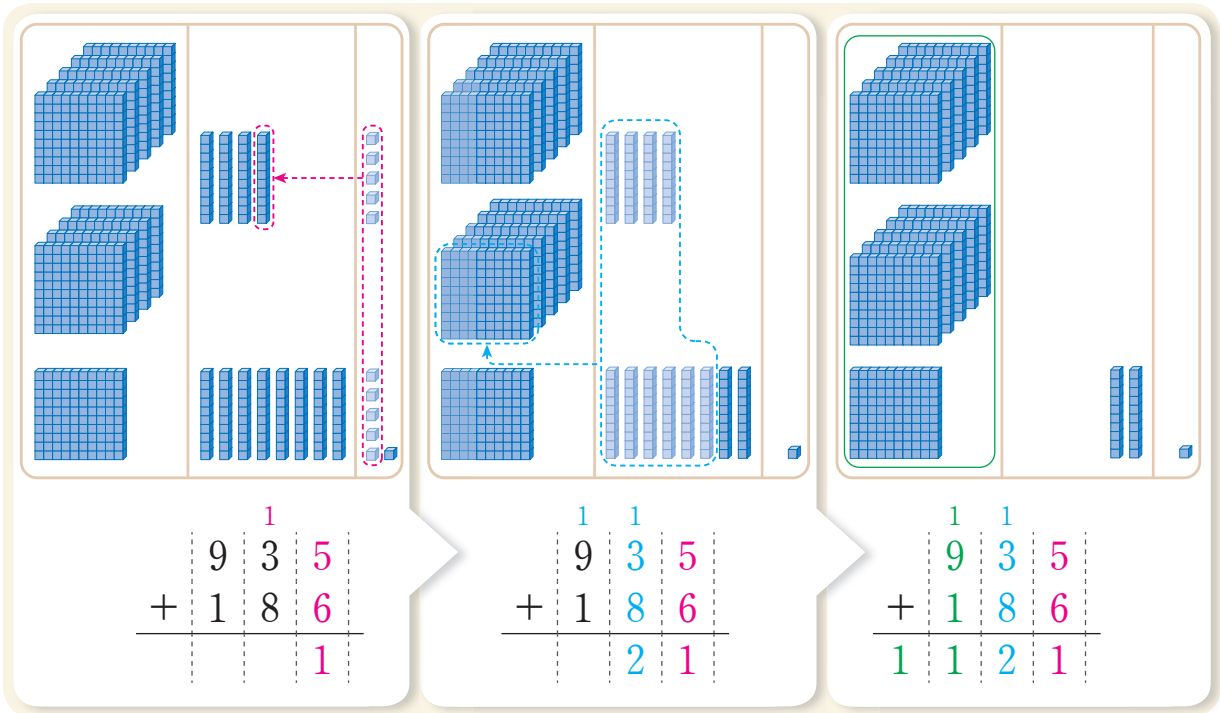
십 모형이 10개가 되면 어떻게 나타내어야 할까요?



$\begin{array}{r} 575 \\ + 147 \\ \hline 722 \end{array}$	$\begin{array}{r} 575 \\ + 147 \\ \hline 722 \end{array}$	$\begin{array}{r} 575 \\ + 147 \\ \hline 722 \end{array}$

- 계산하는 방법을 말해 보세요.


 935+186을 어떻게 계산하는지 알아보시다.




$$\begin{array}{r} & 1 & & & \\ & 9 & 3 & 5 & \\ + & 1 & 8 & 6 & \\ \hline & & & & 1 \end{array}$$

$$\begin{array}{r} & 1 & 1 & & & \\ & 9 & 3 & 5 & & \\ + & 1 & 8 & 6 & & \\ \hline & & & & 2 & 1 \end{array}$$

$$\begin{array}{r} & 1 & 1 & & & \\ & 9 & 3 & 5 & & \\ + & 1 & 8 & 6 & & \\ \hline 1 & 1 & 2 & 1 & & \end{array}$$



- 계산하는 방법을 말해 보세요.

 두 수를 더해 계산해 봅시다.

