




덧셈을 해 볼까요(2)

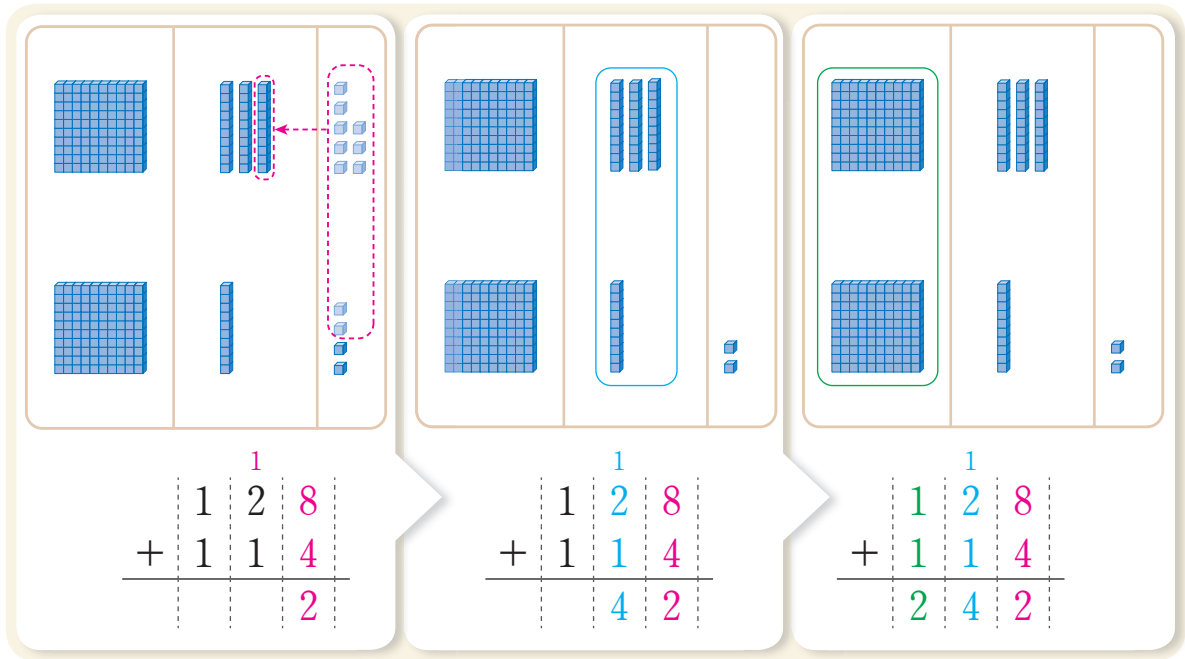
입장 할인권을 몇 장 준비해야 하는지 알아보시다.



- 입장 할인권을 몇 장 준비해야 하는지 어렵해 보세요.
- 어떻게 구하면 되는지 식을 써 보세요.
- 입장 할인권 수를 어떻게 계산할 수 있을까요?
- 수 모형으로 알아보세요.



 128+114를 어떻게 계산하는지 알아보시다.




		1	
	1	2	8
+	1	1	4
<hr/>			
			2


		1	
	1	2	8
+	1	1	4
<hr/>			
		4	2

		1	
	1	2	8
+	1	1	4
<hr/>			
	2	4	2

어림하여 계산한 값과 비교해 볼까요?



- 계산하는 방법을 말해 보세요.

 계산해 봅시다.

$$\begin{array}{r} 327 \\ + 418 \\ \hline \end{array}$$

$$\begin{array}{r} 205 \\ + 308 \\ \hline \end{array}$$

$$639 + 254$$

 125+248에 알맞은 문제를 만들고 해결해 봅시다.