



90보다 10만큼 더 큰 수를 알아볼까요

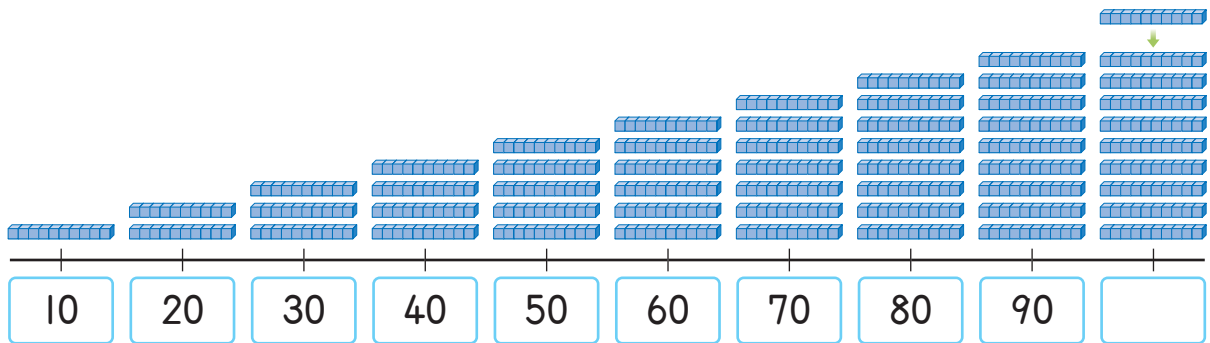
『수학 익힘』 6~7쪽




책이 한 칸에 10권씩 꽂혀 있습니다. 빈칸에 10권을 더 꽂으면 몇 권이 되는지 알아봅시다.



- 책꽂이에 꽂혀 있는 책은 모두 몇 권인가요?
- 빈칸에 10권을 더 꽂으면 책은 모두 몇 권이 되나요?



90보다 10만큼 더 큰 수는 100입니다. 100은 백이라고 읽습니다.






100을 수 모형으로 알아봅시다.

- 100을 십 모형과 백 모형으로 각각 나타내어 보세요. 준비물 1

십 모형
<div style="border: 1px solid #add8e6; display: inline-block; width: 40px; height: 20px; margin: 0 auto;"></div> 개

백 모형
<div style="border: 1px solid #add8e6; display: inline-block; width: 40px; height: 20px; margin: 0 auto;"></div> 개

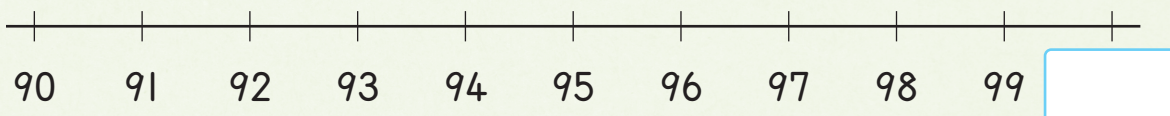
- 십 모형 개는 백 모형 개와 같습니다.



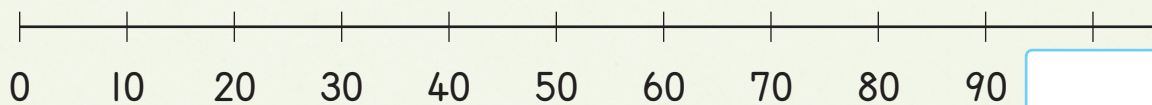
10이 10개이면 100입니다.



안에 알맞은 수를 써넣어 봅시다.



99보다 1만큼 더 큰 수는 입니다.



은/는 90보다 10만큼 더 큰 수입니다.